



Les multiples d'un nombre.

			12	5	9	20
Le double	Deux fois plus	X 2				
Le triple	Trois fois plus	X 3				
Le quadruple	Quatre fois plus	X 4				
Le quintuple	Cinq fois plus	X 5				
Le décuple	Dix fois plus	X 10				
Le centuple	Cent fois plus	X 100				




Les multiples d'un nombre.

			16	25	8	60
Le double	Deux fois plus	X 2				
Le triple	Trois fois plus	X 3				
Le quadruple	Quatre fois plus	X 4				
Le quintuple	Cinq fois plus	X 5				
Le décuple	Dix fois plus	X 10				
Le centuple	Cent fois plus	X 100				




Les multiples d'un nombre.

			11	80	2	12
Le double	Deux fois plus	X 2				
Le triple	Trois fois plus	X 3				
Le quadruple	Quatre fois plus	X 4				
Le quintuple	Cinq fois plus	X 5				
Le décuple	Dix fois plus	X 10				
Le centuple	Cent fois plus	X 100				




Les multiples d'un nombre.

			25	9	50	13
Le double	Deux fois plus	X 2				
Le triple	Trois fois plus	X 3				
Le quadruple	Quatre fois plus	X 4				
Le quintuple	Cinq fois plus	X 5				
Le décuple	Dix fois plus	X 10				
Le centuple	Cent fois plus	X 100				




Les multiples d'un nombre.

			14	50	7	12
Le double	Deux fois plus	X 2				
Le triple	Trois fois plus	X 3				
Le quadruple	Quatre fois plus	X 4				
Le quintuple	Cinq fois plus	X 5				
Le décuple	Dix fois plus	X 10				
Le centuple	Cent fois plus	X 100				




Les multiples d'un nombre.

			70	1	15	25
Le double	Deux fois plus	X 2				
Le triple	Trois fois plus	X 3				
Le quadruple	Quatre fois plus	X 4				
Le quintuple	Cinq fois plus	X 5				
Le décuple	Dix fois plus	X 10				
Le centuple	Cent fois plus	X 100				




Les multiples d'un nombre.

			16	60	12	2
Le double	Deux fois plus	X 2				
Le triple	Trois fois plus	X 3				
Le quadruple	Quatre fois plus	X 4				
Le quintuple	Cinq fois plus	X 5				
Le décuple	Dix fois plus	X 10				
Le centuple	Cent fois plus	X 100				




Les multiples d'un nombre.

			25	10	6	17
Le double	Deux fois plus	X 2				
Le triple	Trois fois plus	X 3				
Le quadruple	Quatre fois plus	X 4				
Le quintuple	Cinq fois plus	X 5				
Le décuple	Dix fois plus	X 10				
Le centuple	Cent fois plus	X 100				




Les multiples d'un nombre.

			12	18	4	90
Le double	Deux fois plus	X 2				
Le triple	Trois fois plus	X 3				
Le quadruple	Quatre fois plus	X 4				
Le quintuple	Cinq fois plus	X 5				
Le décuple	Dix fois plus	X 10				
Le centuple	Cent fois plus	X 100				




Les multiples d'un nombre.

			19	8	20	25
Le double	Deux fois plus	X 2				
Le triple	Trois fois plus	X 3				
Le quadruple	Quatre fois plus	X 4				
Le quintuple	Cinq fois plus	X 5				
Le décuple	Dix fois plus	X 10				
Le centuple	Cent fois plus	X 100				




Les multiples d'un nombre.

			11	7	40	12
Le double	Deux fois plus	X 2				
Le triple	Trois fois plus	X 3				
Le quadruple	Quatre fois plus	X 4				
Le quintuple	Cinq fois plus	X 5				
Le décuple	Dix fois plus	X 10				
Le centuple	Cent fois plus	X 100				




Les multiples d'un nombre.

			25	12	4	30
Le double	Deux fois plus	X 2				
Le triple	Trois fois plus	X 3				
Le quadruple	Quatre fois plus	X 4				
Le quintuple	Cinq fois plus	X 5				
Le décuple	Dix fois plus	X 10				
Le centuple	Cent fois plus	X 100				




Les multiples d'un nombre.

			13	3	20	12
Le double	Deux fois plus	X 2				
Le triple	Trois fois plus	X 3				
Le quadruple	Quatre fois plus	X 4				
Le quintuple	Cinq fois plus	X 5				
Le décuple	Dix fois plus	X 10				
Le centuple	Cent fois plus	X 100				



Les multiples d'un nombre.

			14	30	25	6
Le double	Deux fois plus	X 2				
Le triple	Trois fois plus	X 3				
Le quadruple	Quatre fois plus	X 4				
Le quintuple	Cinq fois plus	X 5				
Le décuple	Dix fois plus	X 10				
Le centuple	Cent fois plus	X 100				



Les multiples d'un nombre.

			10	15	5	12
Le double	Deux fois plus	X 2				
Le triple	Trois fois plus	X 3				
Le quadruple	Quatre fois plus	X 4				
Le quintuple	Cinq fois plus	X 5				
Le décuple	Dix fois plus	X 10				
Le centuple	Cent fois plus	X 100				