

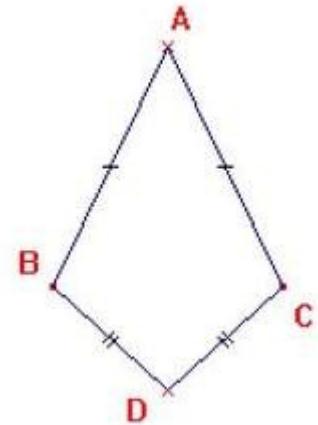
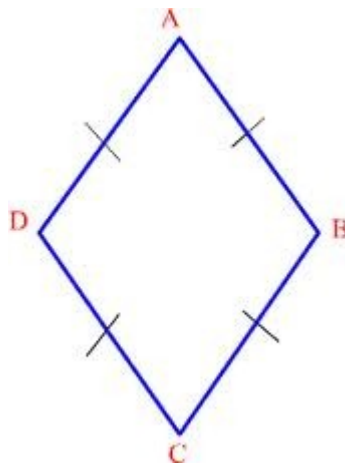

## Les diagonales du losange



Un losange est un quadrilatère qui a ses quatre côtés de même longueur.

Un losange est un ..... qui a ses quatre  
..... de même .....

- Entoure le losange :



- Trace les diagonales du losange.
- Complète la phrase suivante :

Les diagonales du losange sont .....

# Les diagonales du losange

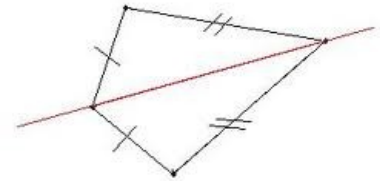

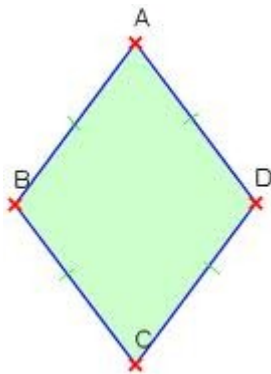


Un losange est un quadrilatère qui a ses quatre côtés de même longueur.

© www.ClipProject.info

Un losange est un ..... qui a ses quatre  
..... de même .....

- Entoure le losange :



- Trace les diagonales du losange.
- Complète la phrase suivante :

Les diagonales du losange sont .....

## Les diagonales du losange

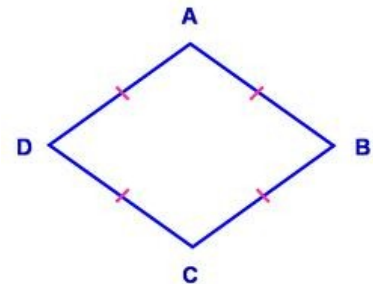
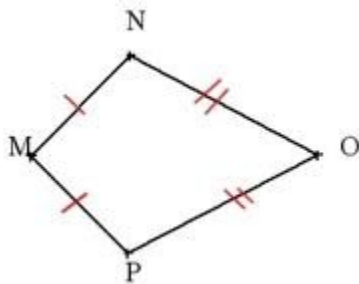


Un losange est un quadrilatère qui a ses quatre côtés de même longueur.

© www.ClipProject.info

Un losange est un ..... qui a ses quatre  
..... de même .....

- Entoure le losange :



- Trace les diagonales du losange.
- Complète la phrase suivante :

Les diagonales du losange sont .....

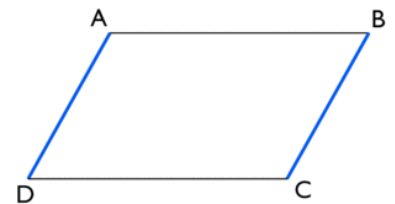
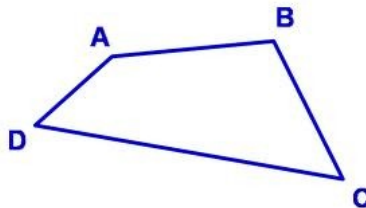
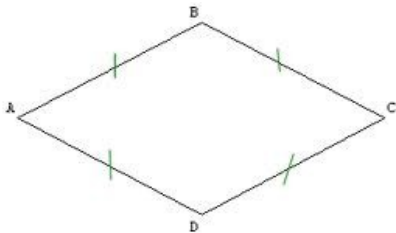
## Les diagonales du losange



Un losange est un quadrilatère qui a ses quatre côtés de même longueur.

Un losange est un ..... qui a ses quatre  
..... de même .....

- Entoure le losange :



- Trace les diagonales du losange.
- Complète la phrase suivante :

Les diagonales du losange sont .....

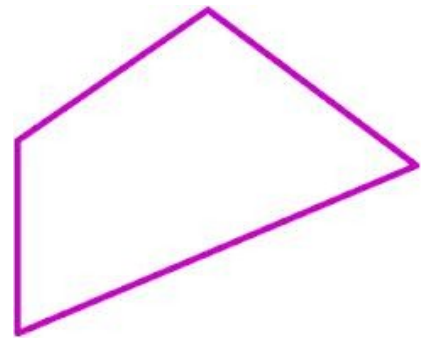
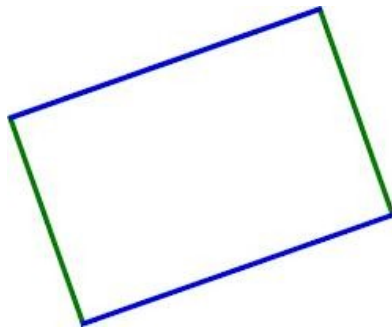
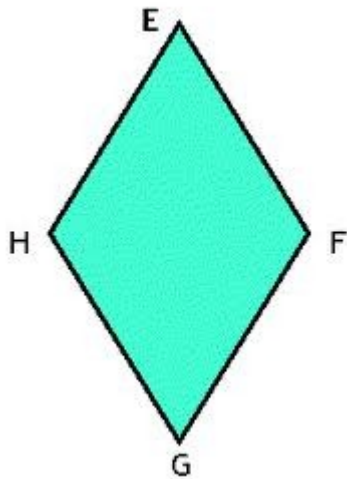
## Les diagonales du losange



Un losange est un quadrilatère qui a ses quatre côtés de même longueur.

Un losange est un ..... qui a ses quatre  
..... de même .....

- Entoure le losange :



- Trace les diagonales du losange.
- Complète la phrase suivante :

Les diagonales du losange sont .....

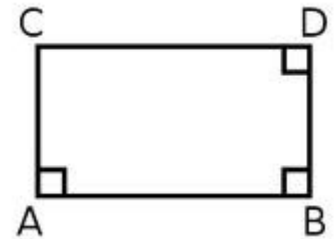
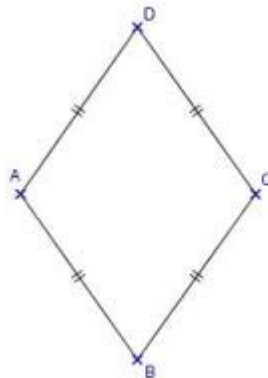
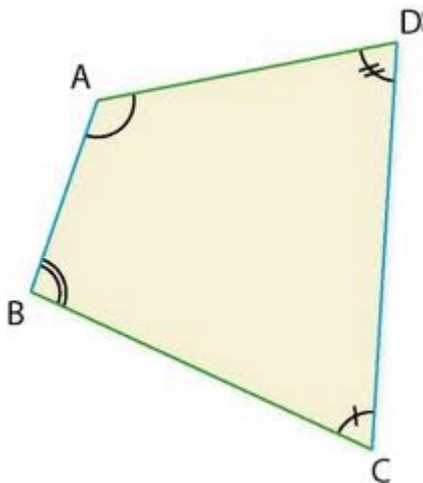
## Les diagonales du losange



Un losange est un quadrilatère qui a ses quatre côtés de même longueur.

Un losange est un ..... qui a ses quatre  
..... de même .....

- Entoure le losange :



- Trace les diagonales du losange.
- Complète la phrase suivante :

Les diagonales du losange sont .....

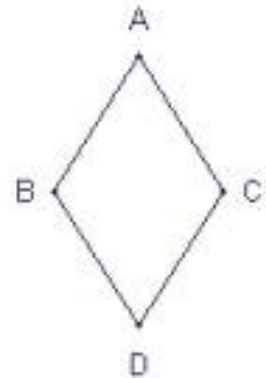
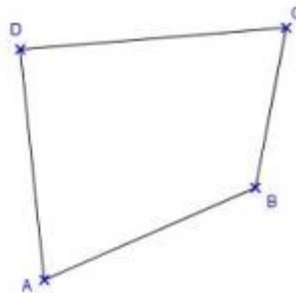
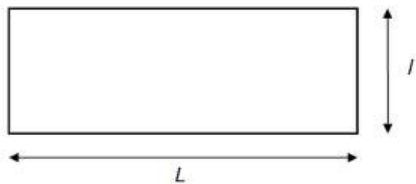
## Les diagonales du losange



Un losange est un quadrilatère qui a ses quatre côtés de même longueur.

Un losange est un ..... qui a ses quatre  
..... de même .....

- Entoure le losange :



- Trace les diagonales du losange.
- Complète la phrase suivante :

Les diagonales du losange sont .....

# Les diagonales du losange

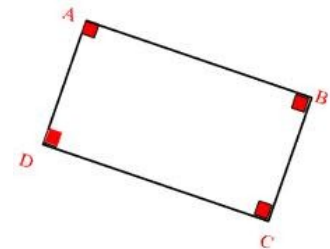
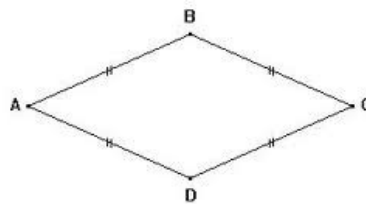
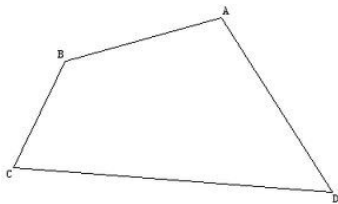


Un losange est un quadrilatère qui a ses quatre côtés de même longueur.

© www.ClipProject.info

Un losange est un ..... qui a ses quatre  
..... de même .....

- Entoure le losange :



- Trace les diagonales du losange.
- Complète la phrase suivante :

Les diagonales du losange sont .....



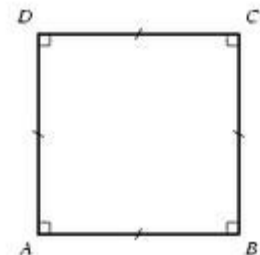
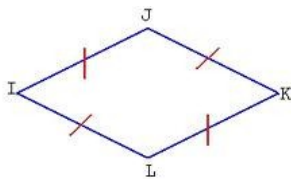
## Les diagonales du losange



Un losange est un quadrilatère qui a ses quatre côtés de même longueur.

Un losange est un ..... qui a ses quatre  
..... de même .....

- Entoure le losange :



- Trace les diagonales du losange.
- Complète la phrase suivante :

Les diagonales du losange sont .....

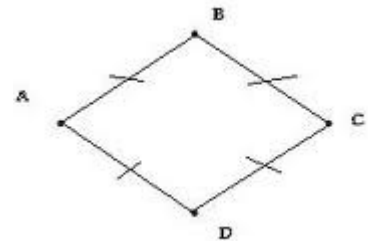
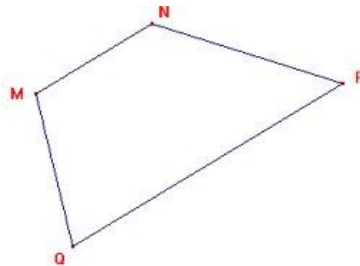
## Les diagonales du losange



Un losange est un quadrilatère qui a ses quatre côtés de même longueur.

Un losange est un ..... qui a ses quatre  
..... de même .....

- Entoure le losange :



- Trace les diagonales du losange.
- Complète la phrase suivante :

Les diagonales du losange sont .....


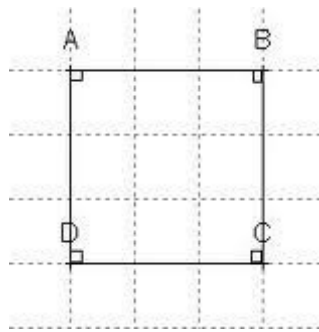
## Les diagonales du losange



Un losange est un quadrilatère qui a ses quatre côtés de même longueur.

Un losange est un ..... qui a ses quatre  
..... de même .....

- Entoure le losange :



- Trace les diagonales du losange.
- Complète la phrase suivante :

Les diagonales du losange sont .....

## Les diagonales du losange

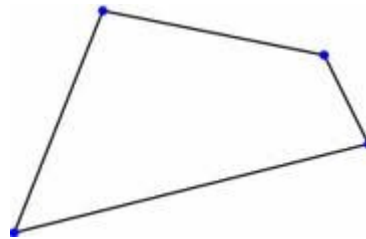
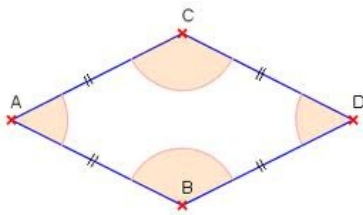


Un losange est un quadrilatère qui a ses quatre côtés de même longueur.

© www.ClipProject.info

Un losange est un ..... qui a ses quatre  
..... de même .....

- Entoure le losange :



- Trace les diagonales du losange.
- Complète la phrase suivante :

Les diagonales du losange sont .....