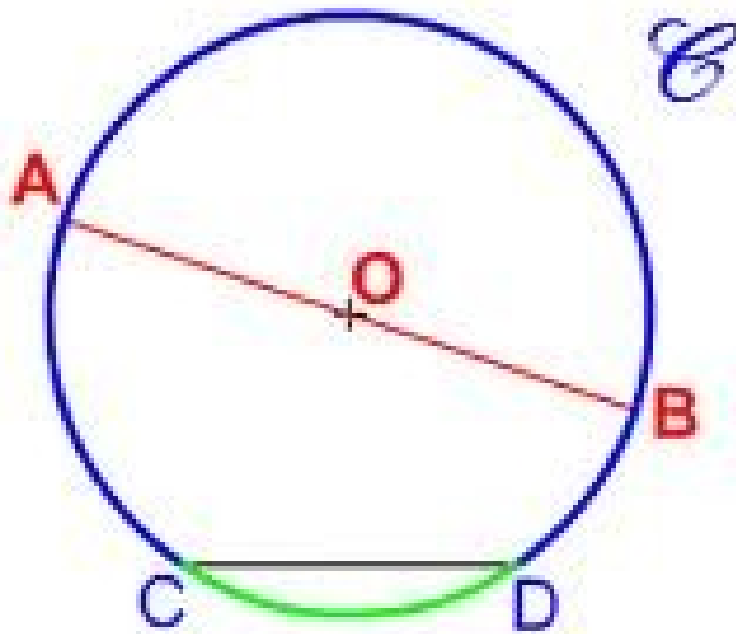
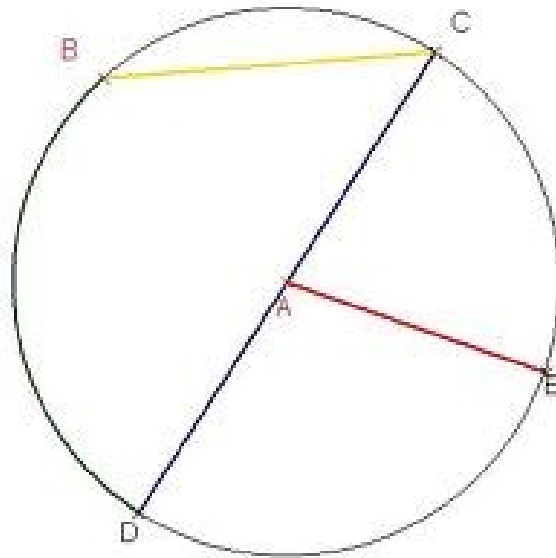


# Le cercle



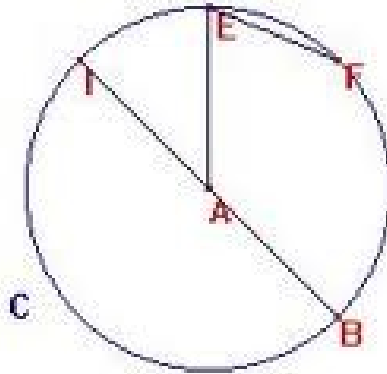
- que désigne la lettre O ? : .....
- que désigne le segment [AB] ? : .....
- que désigne le segment [OB] ? : .....
- que désigne le segment noir [CD] ? : .....
- que désigne le trait vert entre C et D ? :  
.....

# Le cercle



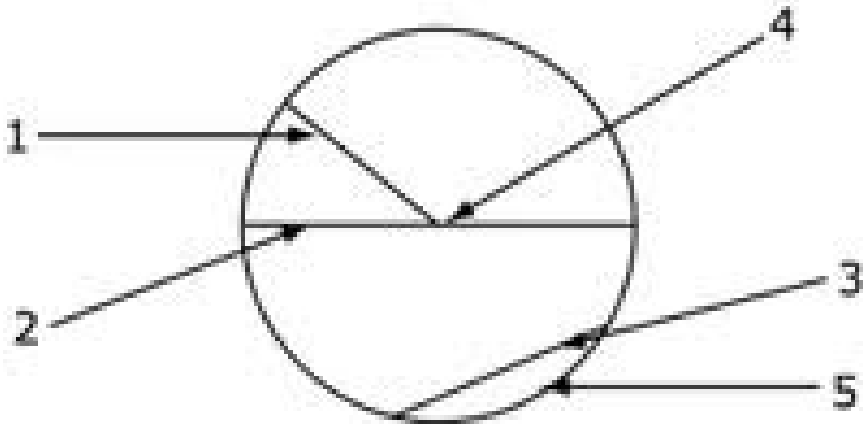
- que désigne le segment  $[AE]$  ? : .....
- que désigne le segment  $[BC]$  ? : .....
- que désigne la lettre A ? : .....
- que désigne le segment  $[DC]$  ? : .....

## Le cercle



- Que désigne le segment  $[EF]$  ? : .....
- Que désigne le segment  $[IA]$  ? : .....
- que désigne la lettre  $C$  ? : .....
- que désigne la lettre  $A$  ? : .....
- que désigne le segment  $[IB]$  ? : .....

Le cercle



1. ....

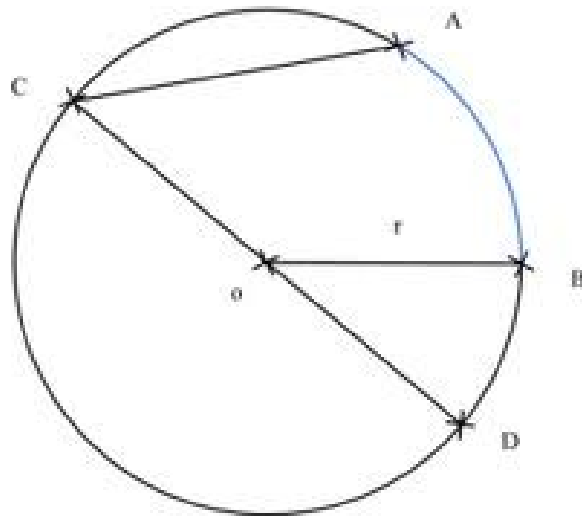
2. ....

3. ....

4. ....

5. ....

## Le cercle



- que désigne le segment  $[OB]$  ? : .....
- que désigne le point  $O$  ? : .....
- que désigne le segment  $[CA]$  ? : .....
- que désigne le segment  $[CD]$  ? : .....