

Le repérage sur une droite graduée.



Il y a 4 graduations entre chaque unité : une graduation = $\frac{1}{4}$ = 0,25

Place le point A d'abscisse 5,5 sur la droite graduée ci-dessous.



Place le point A d'abscisse 3,75 sur la droite graduée ci-dessous.



Place le point A d'abscisse 2,25 sur la droite graduée ci-dessous.



Le repérage sur une droite graduée.



Il y a 4 graduations entre chaque unité : une graduation = $\frac{1}{4}$ = 0,25

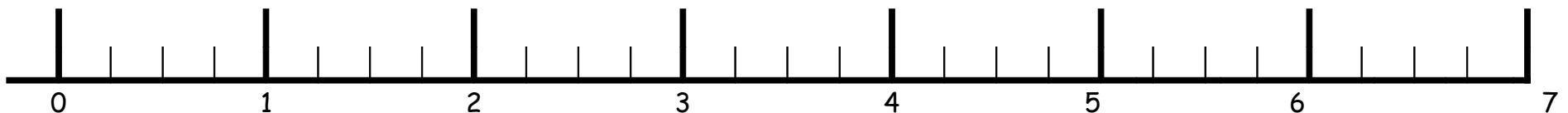
Place le point A d'abscisse 1,75 sur la droite graduée ci-dessous.



Place le point A d'abscisse 6,5 sur la droite graduée ci-dessous.



Place le point A d'abscisse 3,25 sur la droite graduée ci-dessous.



Le repérage sur une droite graduée.



Il y a 4 graduations entre chaque unité : une graduation = $\frac{1}{4}$ = 0,25

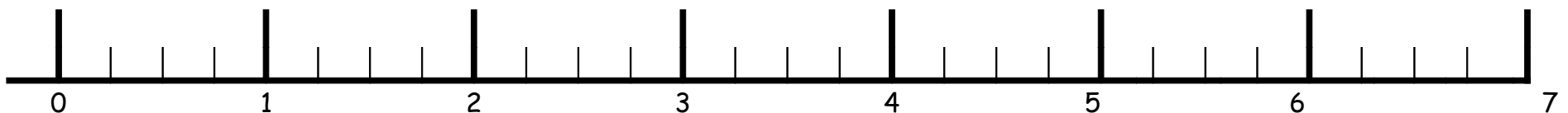
Place le point A d'abscisse 6,75 sur la droite graduée ci-dessous.



Place le point A d'abscisse 4,25 sur la droite graduée ci-dessous.



Place le point A d'abscisse 1,5 sur la droite graduée ci-dessous.



Le repérage sur une droite graduée.



Il y a 4 graduations entre chaque unité : une graduation = $\frac{1}{4}$ = 0,25

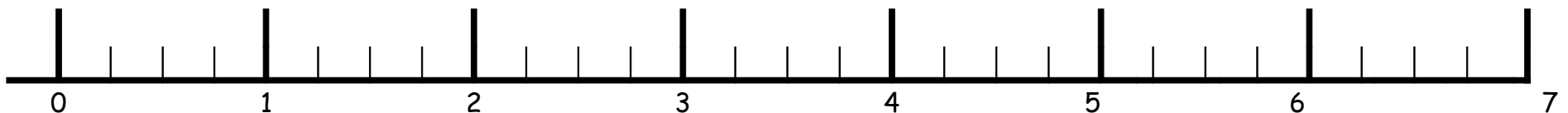
Place le point A d'abscisse 3,25 sur la droite graduée ci-dessous.



Place le point A d'abscisse 7,5 sur la droite graduée ci-dessous.



Place le point A d'abscisse 0,75 sur la droite graduée ci-dessous.



Le repérage sur une droite graduée.



Il y a 4 graduations entre chaque unité : une graduation = $\frac{1}{4}$ = 0,25

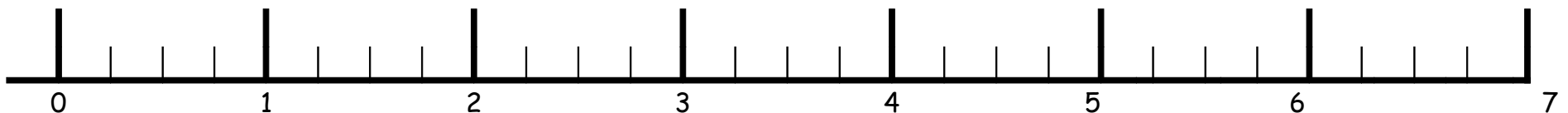
Place le point A d'abscisse 4,5 sur la droite graduée ci-dessous.



Place le point A d'abscisse 0,25 sur la droite graduée ci-dessous.



Place le point A d'abscisse 6,75 sur la droite graduée ci-dessous.



Le repérage sur une droite graduée.



Il y a 4 graduations entre chaque unité : une graduation = $\frac{1}{4}$ = 0,25

Place le point A d'abscisse 5,75 sur la droite graduée ci-dessous.



Place le point A d'abscisse 2,5 sur la droite graduée ci-dessous.



Place le point A d'abscisse 3,25 sur la droite graduée ci-dessous.



Le repérage sur une droite graduée.



Il y a 4 graduations entre chaque unité : une graduation = $\frac{1}{4}$ = 0,25

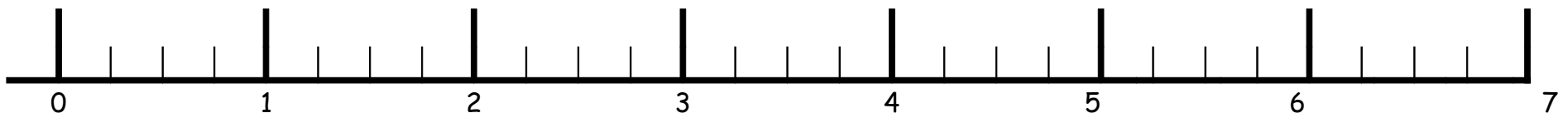
Place le point A d'abscisse 6,5 sur la droite graduée ci-dessous.



Place le point A d'abscisse 2,25 sur la droite graduée ci-dessous.



Place le point A d'abscisse 5,75 sur la droite graduée ci-dessous.



Le repérage sur une droite graduée.



Il y a 4 graduations entre chaque unité : une graduation = $\frac{1}{4}$ = 0,25

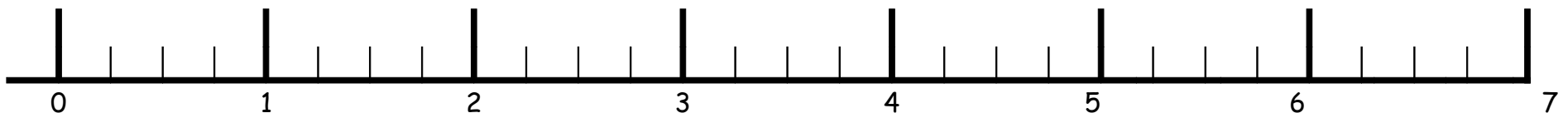
Place le point A d'abscisse 1,25 sur la droite graduée ci-dessous.



Place le point A d'abscisse 4,75 sur la droite graduée ci-dessous.



Place le point A d'abscisse 3,5 sur la droite graduée ci-dessous.

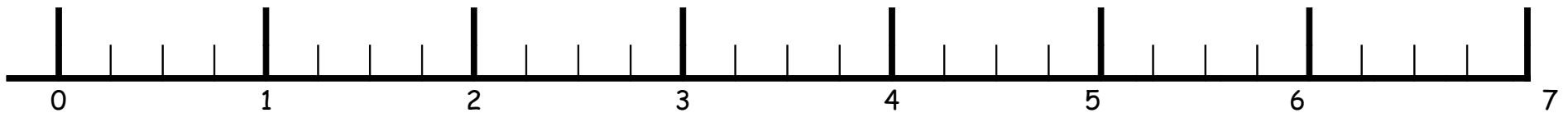


Le repérage sur une droite graduée.



Il y a 4 graduations entre chaque unité : une graduation = $\frac{1}{4}$ = 0,25

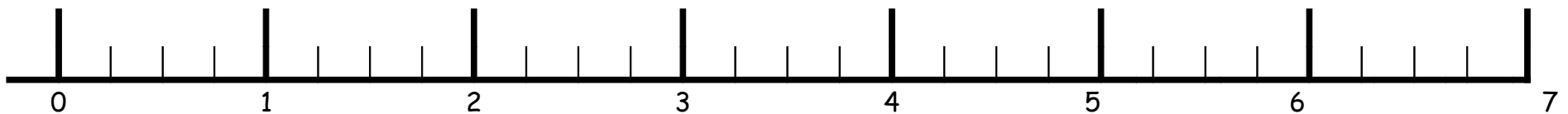
Place le point A d'abscisse 0,5 sur la droite graduée ci-dessous.



Place le point A d'abscisse 5,25 sur la droite graduée ci-dessous.



Place le point A d'abscisse 2,75 sur la droite graduée ci-dessous.



Le repérage sur une droite graduée.



Il y a 4 graduations entre chaque unité : une graduation = $\frac{1}{4}$ = 0,25

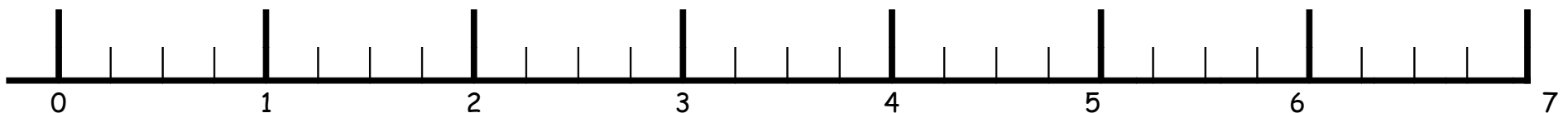
Place le point A d'abscisse 4,75 sur la droite graduée ci-dessous.



Place le point A d'abscisse 1,5 sur la droite graduée ci-dessous.



Place le point A d'abscisse 3,25 sur la droite graduée ci-dessous.



Le repérage sur une droite graduée.



Il y a 4 graduations entre chaque unité : une graduation = $\frac{1}{4}$ = 0,25

Place le point A d'abscisse 6,5 sur la droite graduée ci-dessous.



Place le point A d'abscisse 4,25 sur la droite graduée ci-dessous.



Place le point A d'abscisse 1,75 sur la droite graduée ci-dessous.



Le repérage sur une droite graduée.



Il y a 4 graduations entre chaque unité : une graduation = $\frac{1}{4}$ = 0,25

Place le point A d'abscisse 2,75 sur la droite graduée ci-dessous.



Place le point A d'abscisse 0,25 sur la droite graduée ci-dessous.



Place le point A d'abscisse 3,5 sur la droite graduée ci-dessous.

