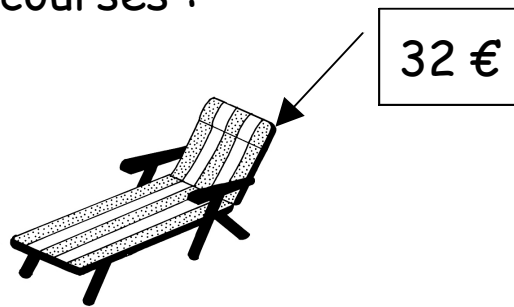
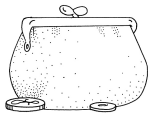


Lorsque je fais les courses :



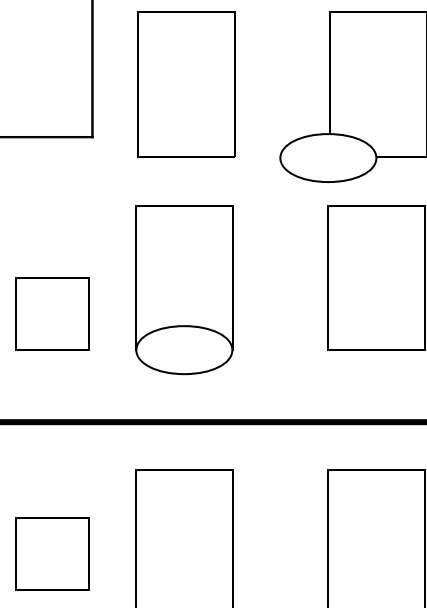
Je veux acheter un fauteuil de jardin qui coûte 32 euros.



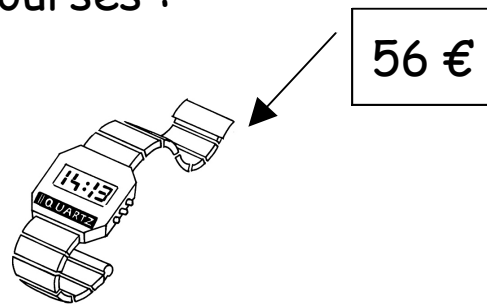
Je donne 50 euros à la caissière.

Combien d'argent va me rendre la caissière ?

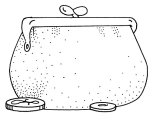
| Argent donner à la caissière | - | Prix du fauteuil de jardin | = | La monnaie que me rend la caissière. |
|------------------------------|---|----------------------------|---|--------------------------------------|
| | - | | = | |



Lorsque je fais les courses :



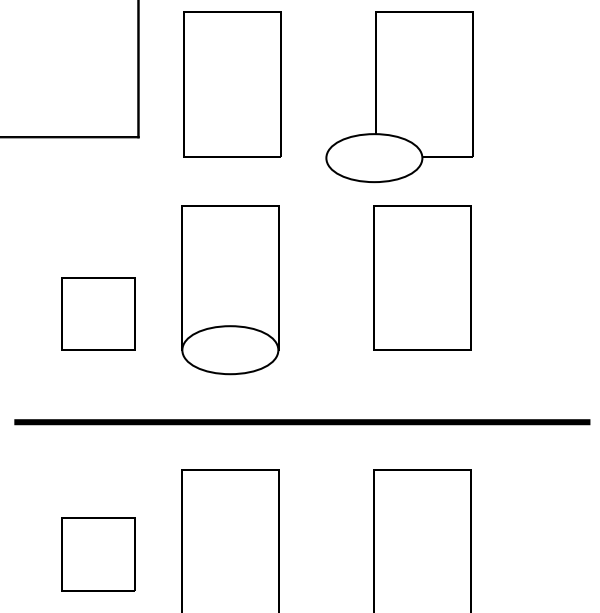
Je veux acheter **une montre** qui coûte **56 euros**.



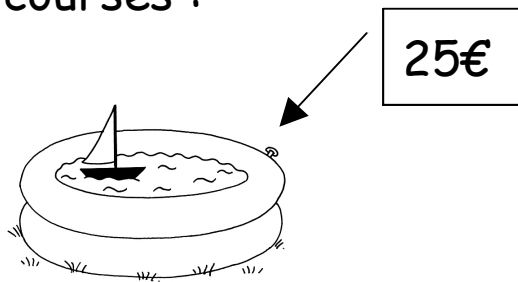
Je donne **60 euros** à la caissière.

Combien d'argent va me rendre la caissière ?

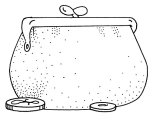
| Argent donner à la caissière | - | Prix de la montre | = | La monnaie que me rend la caissière. |
|------------------------------|---|-------------------|---|--------------------------------------|
| | - | | = | |



Lorsque je fais les courses :



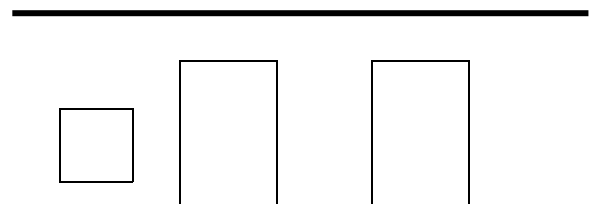
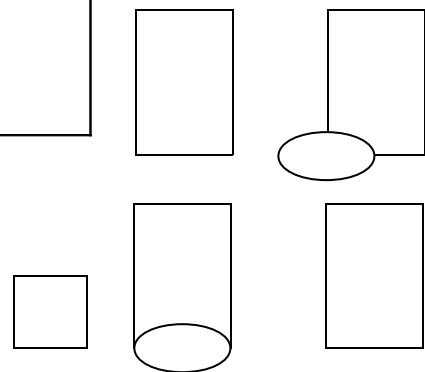
Je veux acheter **une piscine** qui coûte **25 euros**.



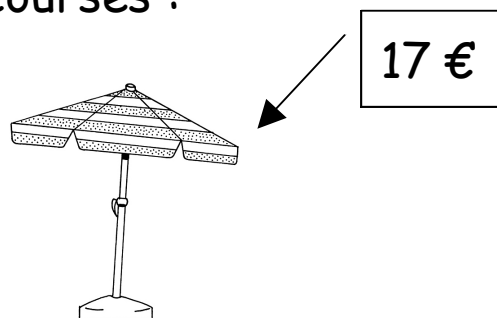
Je donne **30 euros** à la caissière.

Combien d'argent va me rendre la caissière ?

| Argent donner à la caissière | - | Prix de la piscine | = | La monnaie que me rend la caissière. |
|------------------------------|---|--------------------|---|--------------------------------------|
| | - | | = | |



Lorsque je fais les courses :



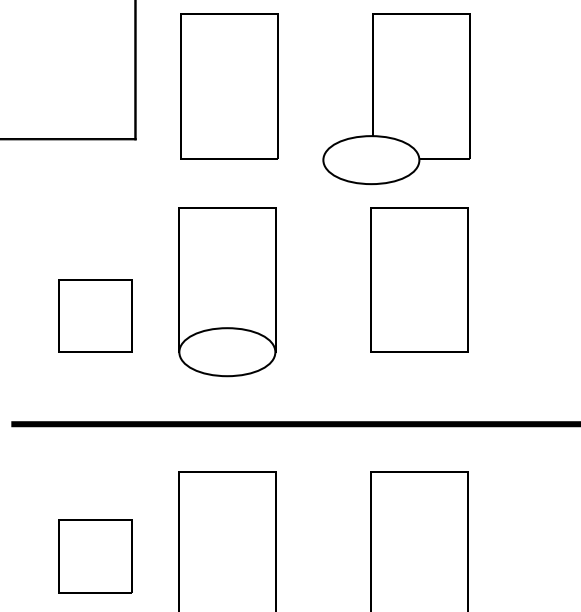
Je veux acheter un parasol qui coûte 17 euros.



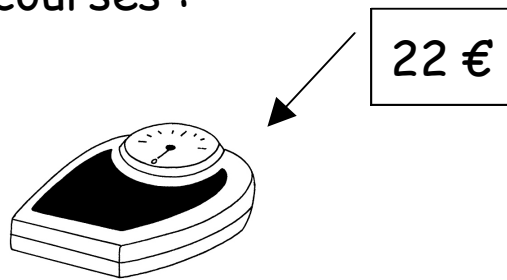
Je donne 50 euros à la caissière.

Combien d'argent va me rendre la caissière ?

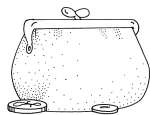
| Argent donner à la caissière | - | Prix du parasol | = | La monnaie que me rend la caissière. |
|------------------------------|---|-----------------|---|--------------------------------------|
| | - | | = | |



Lorsque je fais les courses :



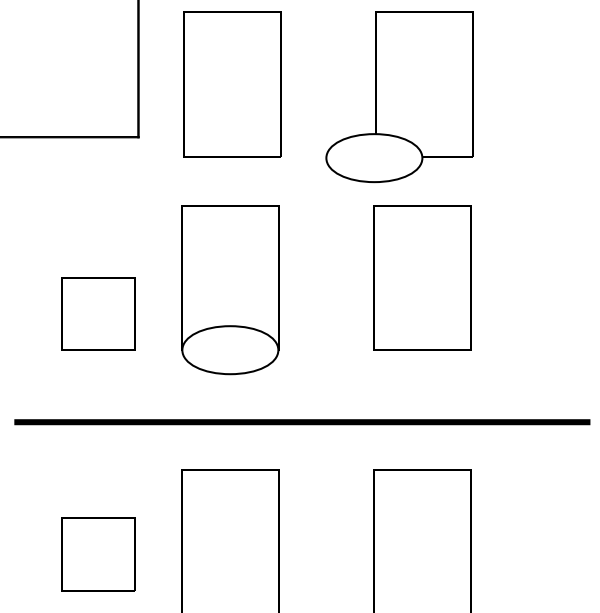
Je veux acheter une balance qui coûte 22 euros.




Je donne 40 euros à la caissière.

Combien d'argent va me rendre la caissière ?

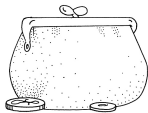
| Argent donner à la caissière | - | Prix de la balance | = | La monnaie que me rend la caissière. |
|------------------------------|---|--------------------|---|--------------------------------------|
| | - | | = | |



Lorsque je fais les courses :



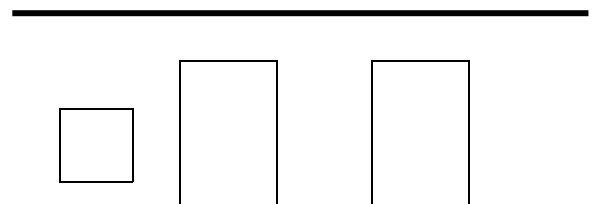
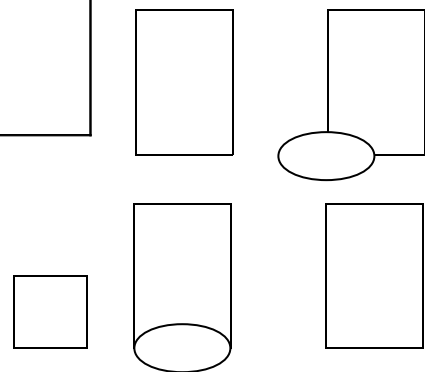
Je veux acheter un salon de jardin qui coûte 74 euros.



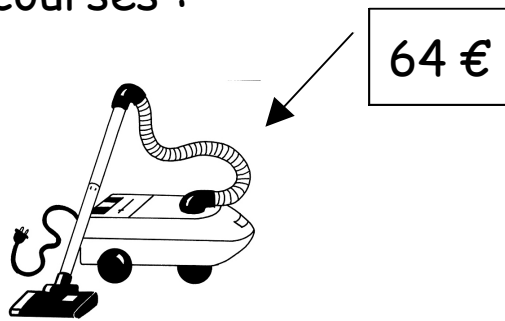
Je donne 90 euros à la caissière.

Combien d'argent va me rendre la caissière ?

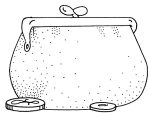
| Argent donner à la caissière | - | Prix du salon de jardin | = | La monnaie que me rend la caissière. |
|------------------------------|---|-------------------------|---|--------------------------------------|
| | - | | = | |



Lorsque je fais les courses :



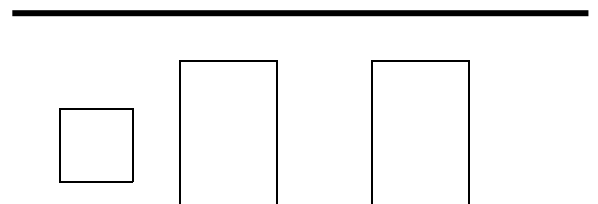
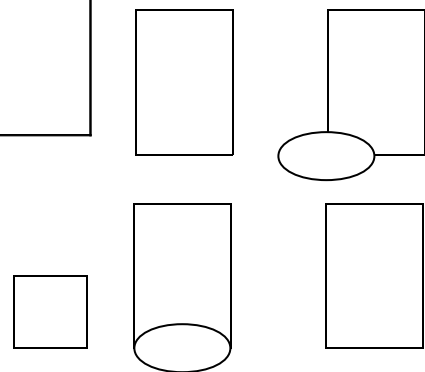
Je veux acheter un aspirateur qui coûte 64 euros.



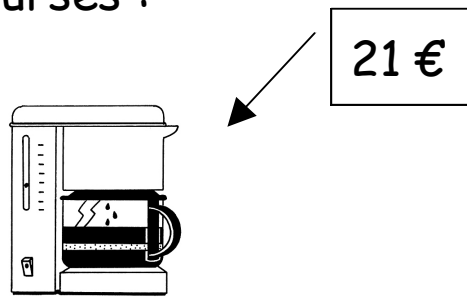
Je donne 80 euros à la caissière.

Combien d'argent va me rendre la caissière ?

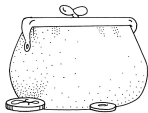
| Argent donner à la caissière | - | Prix de l'aspirateur | = | La monnaie que me rend la caissière. |
|------------------------------|---|----------------------|---|--------------------------------------|
| | - | | = | |



Lorsque je fais les courses :



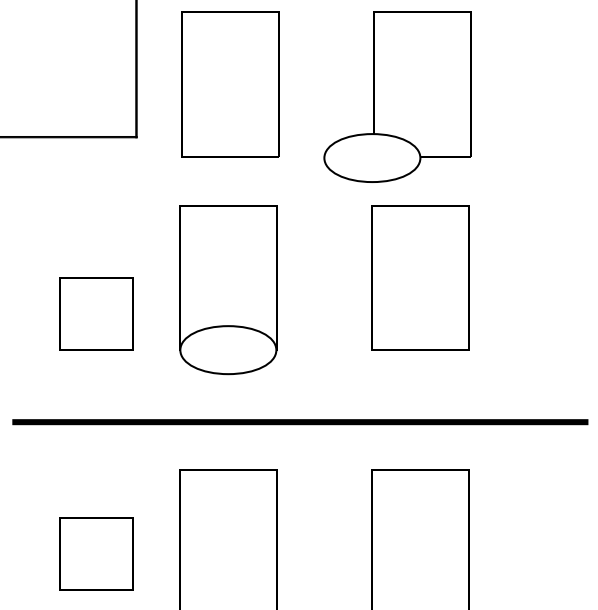
Je veux acheter **une cafetière électrique** qui coûte **21 euros**.




Je donne **40 euros** à la caissière.

Combien d'argent va me rendre la caissière ?

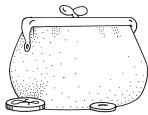
| Argent donner à la caissière | - | Prix de la cafetière | = | La monnaie que me rend la caissière. |
|------------------------------|---|----------------------|---|--------------------------------------|
| | - | | = | |



Lorsque je fais les courses :



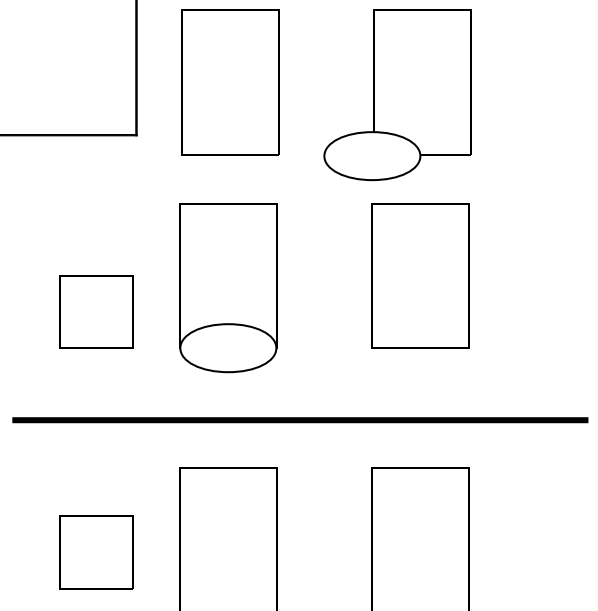
Je veux acheter un blouson qui coûte 37 euros.



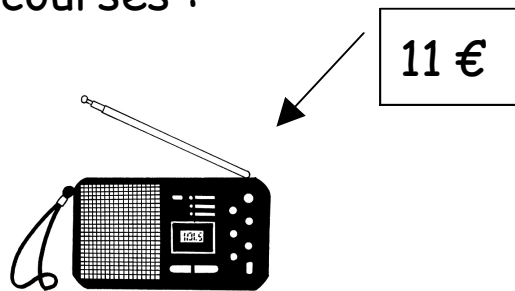
Je donne 60 euros à la caissière.

Combien d'argent va me rendre la caissière ?

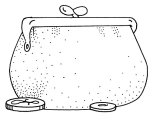
| Argent donner à la caissière | - | Prix du blouson | = | La monnaie que me rend la caissière. |
|------------------------------|---|-----------------|---|--------------------------------------|
| | - | | = | |



Lorsque je fais les courses :



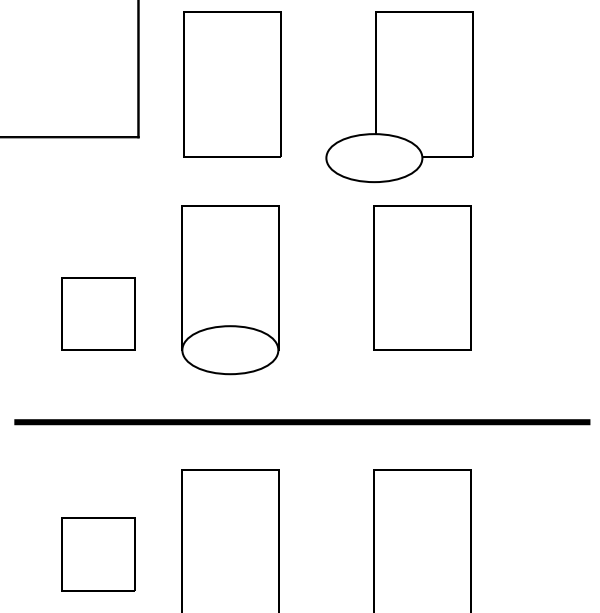
Je veux acheter **une radio** qui coûte **11 euros**.



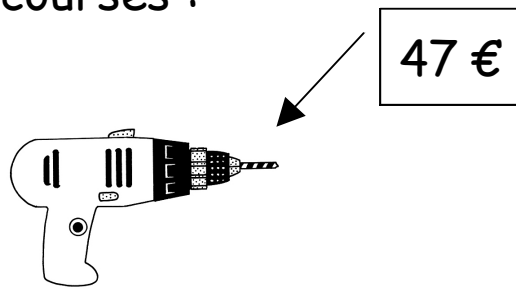
Je donne **20 euros** à la caissière.

Combien d'argent va me rendre la caissière ?

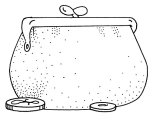
| Argent donner à la caissière | - | Prix de la radio | = | La monnaie que me rend la caissière. |
|------------------------------|---|------------------|---|--------------------------------------|
| | - | | = | |



Lorsque je fais les courses :



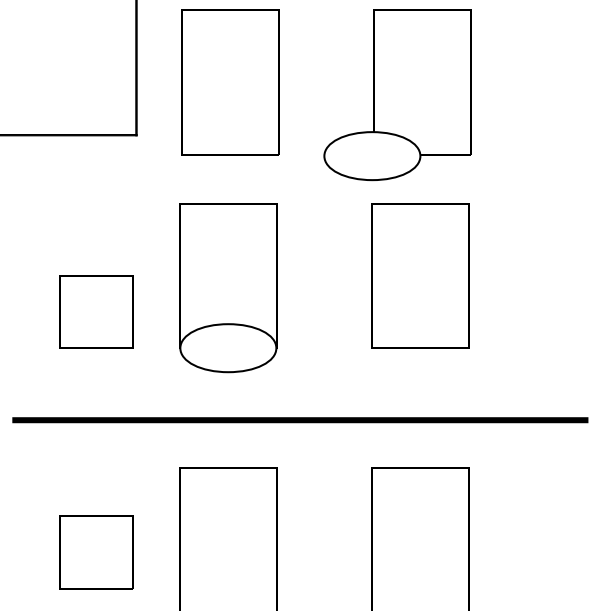
Je veux acheter **une perceuse** qui coûte **47 euros**.



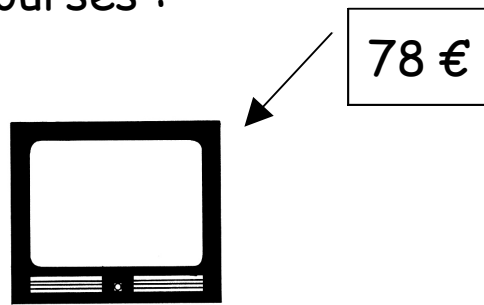
Je donne **60 euros** à la caissière.

Combien d'argent va me rendre la caissière ?

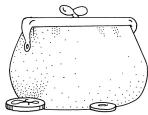
| Argent donner à la caissière | - | Prix de la perceuse | = | La monnaie que me rend la caissière. |
|------------------------------|---|---------------------|---|--------------------------------------|
| | - | | = | |



Lorsque je fais les courses :



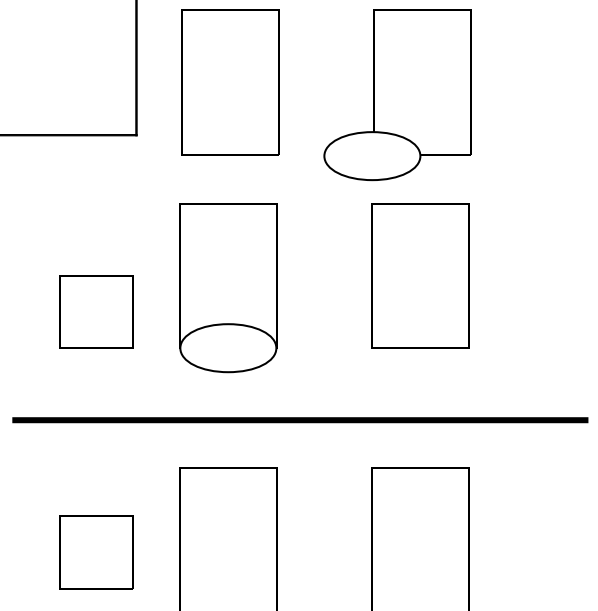
Je veux acheter une télévision qui coûte 78 euros.



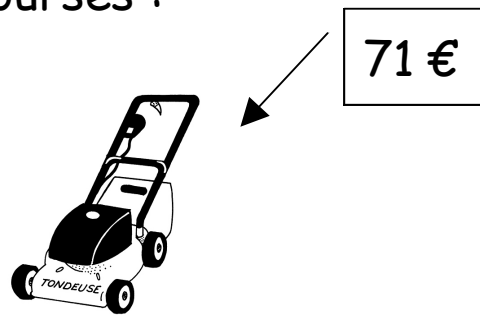
Je donne 90 euros à la caissière.

Combien d'argent va me rendre la caissière ?

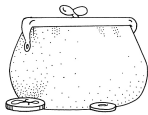
| Argent donner à la caissière | - | Prix d'une télévision | = | La monnaie que me rend la caissière. |
|------------------------------|---|-----------------------|---|--------------------------------------|
| | - | | = | |



Lorsque je fais les courses :



Je veux acheter une tondeuse qui coûte 71 euros.



Je donne 90 euros à la caissière.

Combien d'argent va me rendre la caissière ?

| Argent donner à la caissière | - | Prix de la tondeuse | = | La monnaie que me rend la caissière. |
|------------------------------|---|---------------------|---|--------------------------------------|
| | - | | = | |

