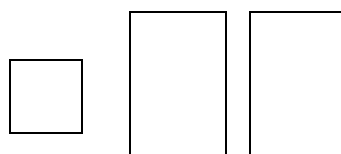
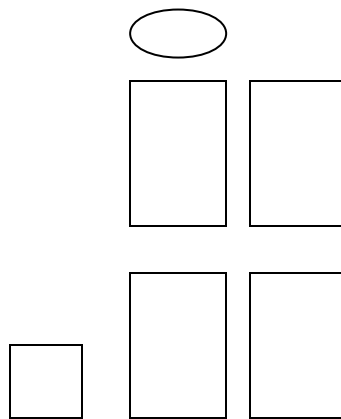

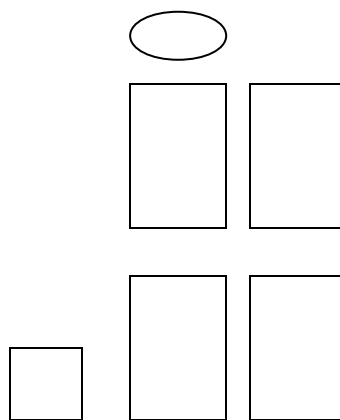


Victor a 18 disques et 25 livres. Manon a 24 livres et 11 disques. Combien de disques Victor et Manon ont-ils à eux deux ?



Dans une boîte, il y a 16 gâteaux. Et dans une autre boîte, il y a 32 gâteaux. Combien y a-t-il de gâteaux en tout ?



Dans sa tirelire, Océane a mis 8 pièces de 1 euro et 7 pièces de 2 euros. Combien Océane a-t-elle de pièces dans sa tirelire ?

