

La situation problème


















Pauline trie ses perles par couleurs. Elle veut faire un collier multicolore. Elle utilisera 45 perles jaunes, 102 perles blanches et 232 perles vertes.

Son amie Lucie compte ses perles avant de faire son collier.

Elle a 244 perles rouges et 148 perles bleues.

Qui a le plus de perles : Pauline ou Lucie ?

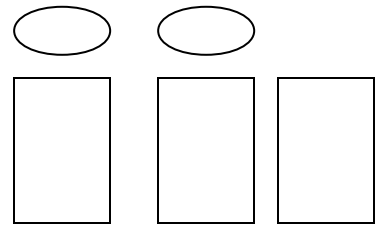
Je calcule d'abord le nombre de perles de Pauline :

Nombre de perles jaunes :				
				
Nombre de perles blanches :				
Nombre de perles vertes :				
<hr/>				
				

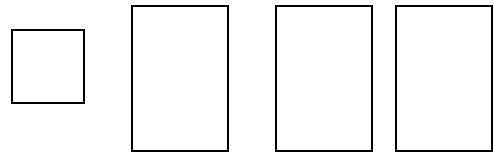
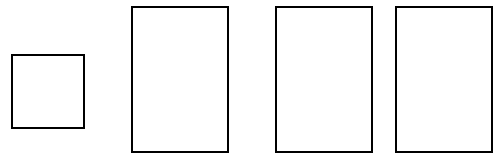
En tout Pauline a perles.

Je calcule ensuite le nombre de perles de Lucie :

Nombre de perles rouges:



Nombre de perles bleues :



En tout Lucie a perles.

Qui a le plus de perles ?

Celles qui a le plus de perles et celles qui en a le plus grand nombre.

Nombre de perles de Pauline		Nombre de perles de Lucie

C'est qui a le plus de perles.